

NOM :

Classe :

Prénom :

Date :

Préparation à l'épreuve de repérage (2).

Vous avez aimé la première partie de l'épreuve de repérage ? Alors vous allez adorer la deuxième !! Encore plus de dates, encore plus de cartes. Toujours la même épreuve, mais en plus dur. Trop dur ? Non, car vous allez donner le meilleur de vous-mêmes ! Vous le savez bien, la réussite est à ce prix.

Mais entrons sans plus attendre dans le vif du sujet :

Ce dossier est à rendre pour le :

Complétez **brièvement** la chronologie ci-dessous à l'aide de votre manuel pages 366 à 369. Faites des phrases.

. 1661-1715 :

. milieu du XVIIIème siècle :

. 2ème moitié du XVIIIème siècle :

. 1789 :

. 1792 :

. 1804-1815 :

. 1848-1852 :

. 1852-1870 :

. 1885 :

. 1898 :

Programme de 3ème :

. août 1914 :

. 1917 :

. 11 novembre 1918 :

. 1929 :

. janvier 1933 :

. 1935 :

. 1936-1938 :

. 1936 (en France) :

. septembre 1939 :

- . 18 juin 1940 :
-
- . mai 1945 :
-
- . août 1945 :
-
- . 1944 (en France) :
-
- . 1945 (en France) :
-
- . 1947 :
-
- . 1949 :
-
- . 1954-1962 :
-
- . 1957 :
-
- . 1958-1969 :
-
- . 1981-1995 :
-
- . 1991 :
-

- . 1992 :
 -
 - . A l'aide de votre manuel pages 366 à 369, indiquez quel était le **régime politique** (monarchie, Ière République, Empire...) de la France aux dates suivantes :
 - . avant 1792 :
 -
 - . de 1792 à 1804 :
 -
 - . de 1804 à 1815 :
 -
 - . de 1815 à 1848 :
 -
 - . de 1848 à 1852 :
 -
 - . de 1852 à 1870 :
 -
 - . de 1870 à 1940 :
 -
 - . de 1940 à 1944 : régime de Vichy
 - . de 1944 à 1947 : gouvernement provisoire
 - . de 1947 à 1958 :
 -
 - . depuis 1958 :
 -
-

Les Repères Spatiaux : l'Europe et la France.

Sur les cartes qui suivent (n°1 à n°6), placez ou coloriez les repères géographiques demandés ci-dessous. Utilisez votre manuel pages 374-375.

N'oubliez pas de donner un titre et une légende complète à chacune de vos cartes d'Europe ou de France.

Ne surchargez pas vos cartes : essayez de les rendre les plus claires et les plus lisibles possible. Utilisez des couleurs variées, des numéros, des symboles et expliquez ensuite dans votre légende.

. Carte n°1 :

Placez les repères suivants :

- les mer principales : Méditerranée, mer du Nord, mer Baltique, mer Noire.
- les noms des pays appartenant au **continent européen**.

. Carte n°2 :

Placez les repères suivants :

- les 27 États actuels de l'**Union Européenne** (coloriez-les, indiquez leur nom et leur capitale).

. Carte n°3 :

Placez les repères suivants :

- les mers et les océans.
- les principaux fleuves : Garonne, Loire, Rhône, Rhin, Seine.
- les montagnes : Alpes, Jura, Massif central, Pyrénées, Vosges.

. Carte n°4 :

Placez les repères suivants :

- les grandes agglomérations : Paris, Lille, Lyon, Marseille, Rennes, Nantes, Bordeaux, Toulouse, Rouen, Clermont-Ferrand, Montpellier, Metz, Nancy, Strasbourg, Grenoble, Nice.

. Carte n°5 :

Placez les repères suivants :

- les noms des 22 régions administratives françaises et des quatre Départements d'Outre-Mer français (*Guadeloupe, Martinique, Guyane, Réunion*).

. Carte n°6 :

Placez les repères suivants :

- la France métropolitaine.
- les DOM (Départements d'Outre-Mer) et les TOM (Territoires d'Outre-Mer) français.

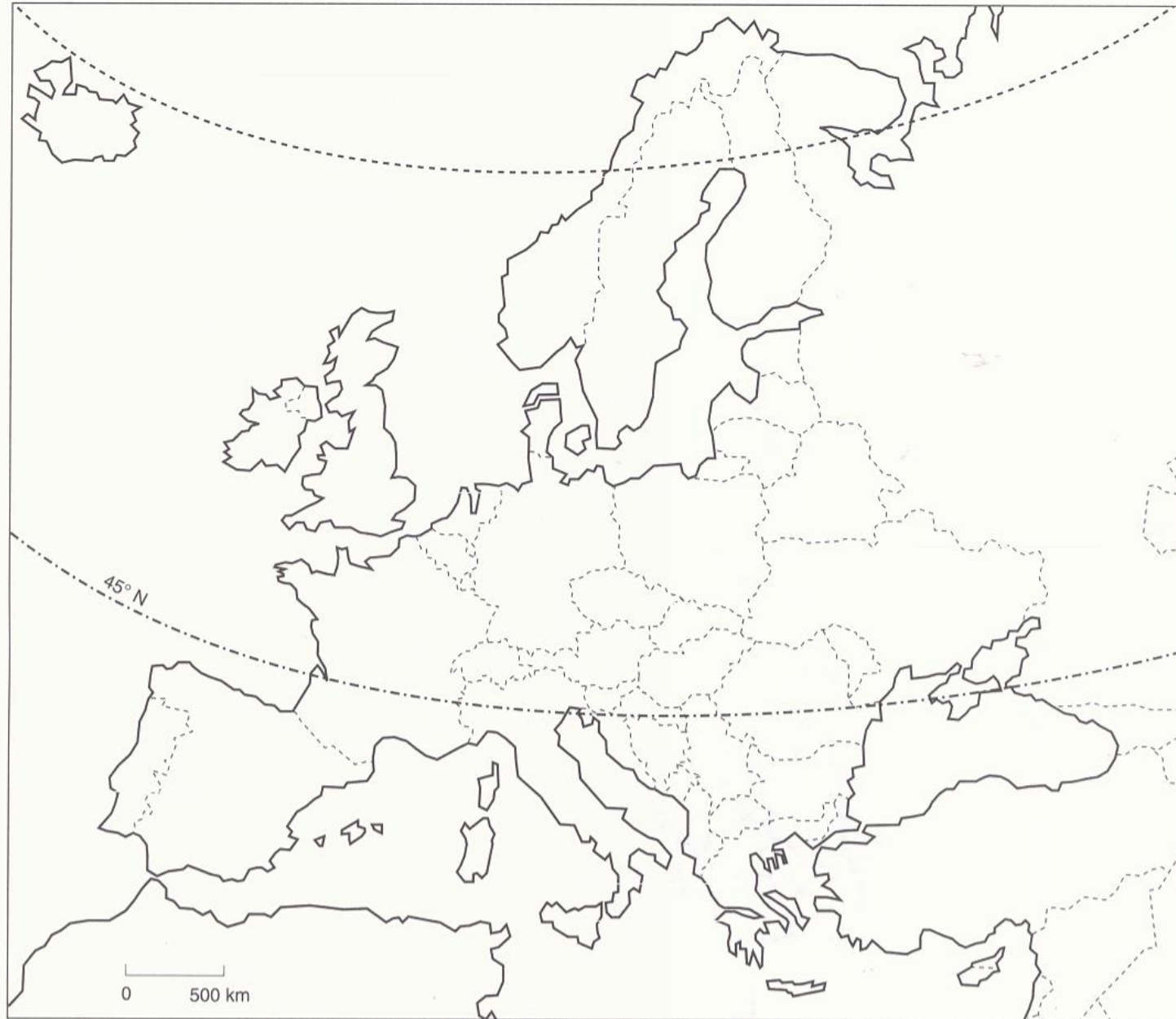
NB : la Guadeloupe, la Martinique, la Guyane et la Réunion sont les quatre DOM français, les autres territoires placés sur la carte sont des TOM.

- le nom des différents océans (Atlantique, Pacifique, Indien).
-



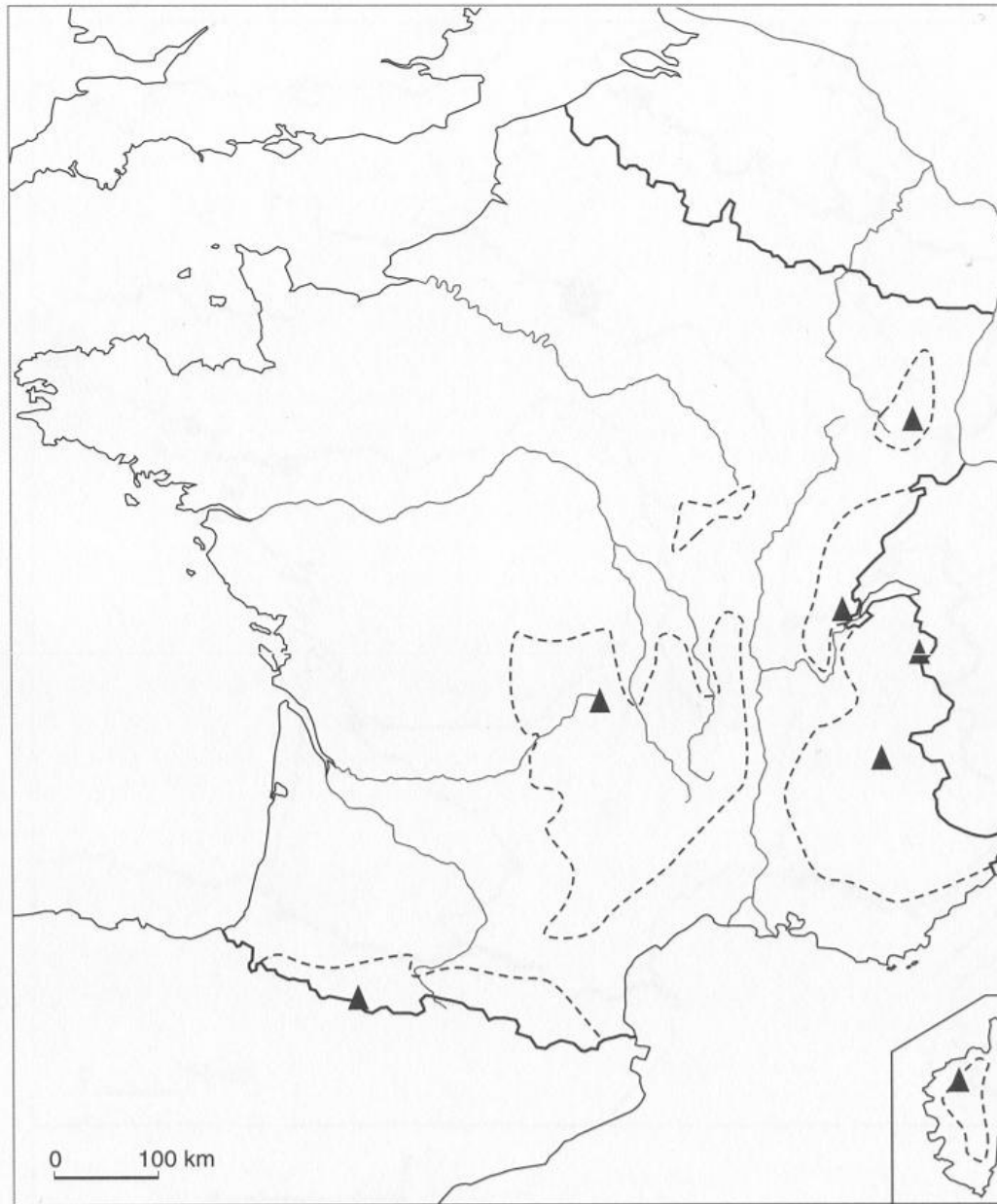
Titre :

Légende :



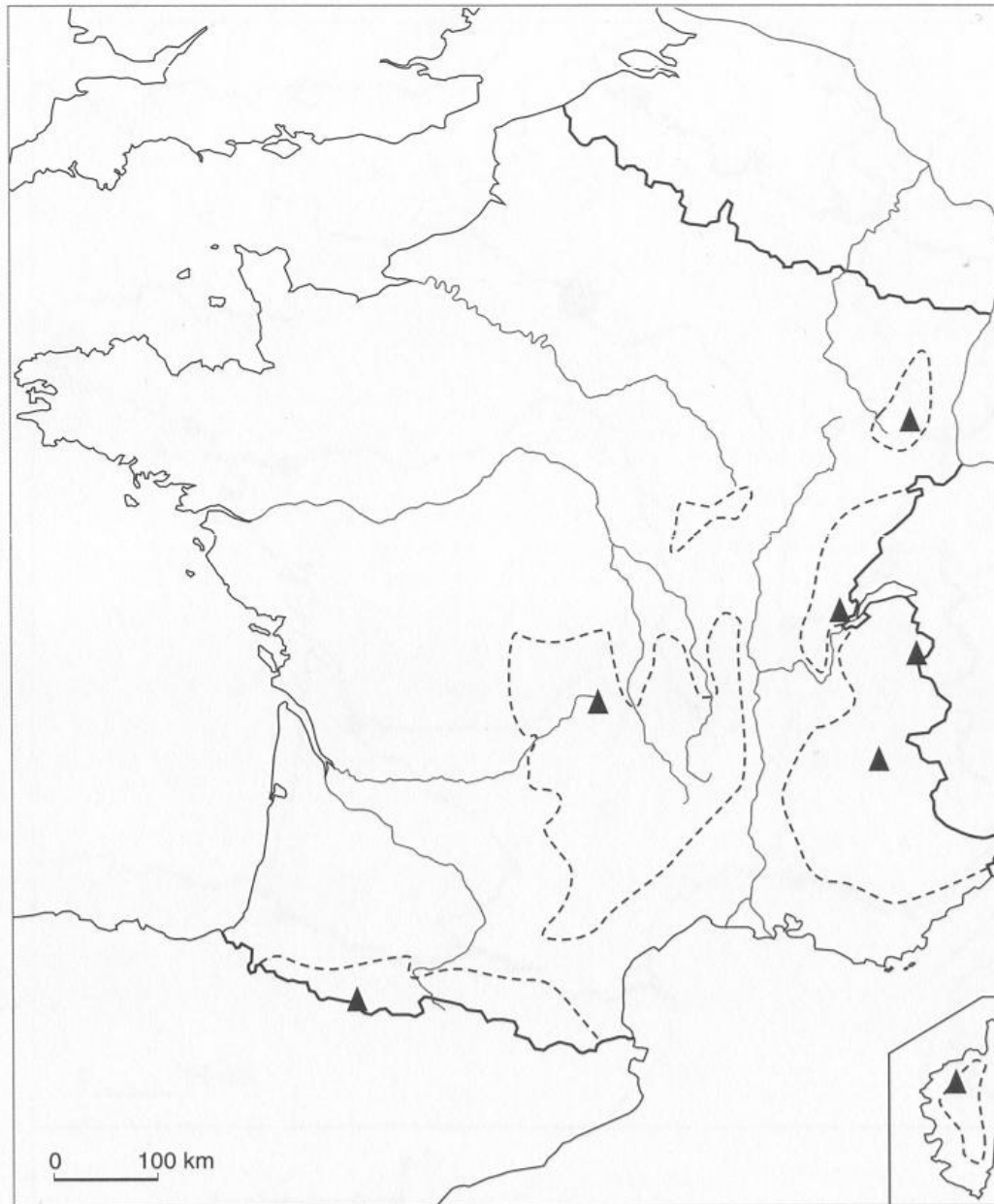
Titre :

Légende :



Titre :

Légende :

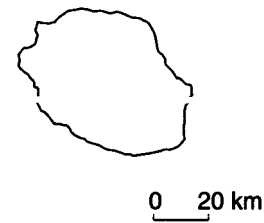
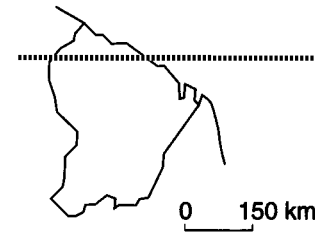
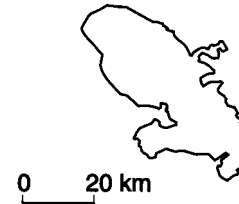
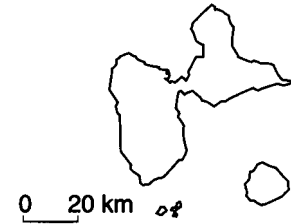


Titre :

Légende :

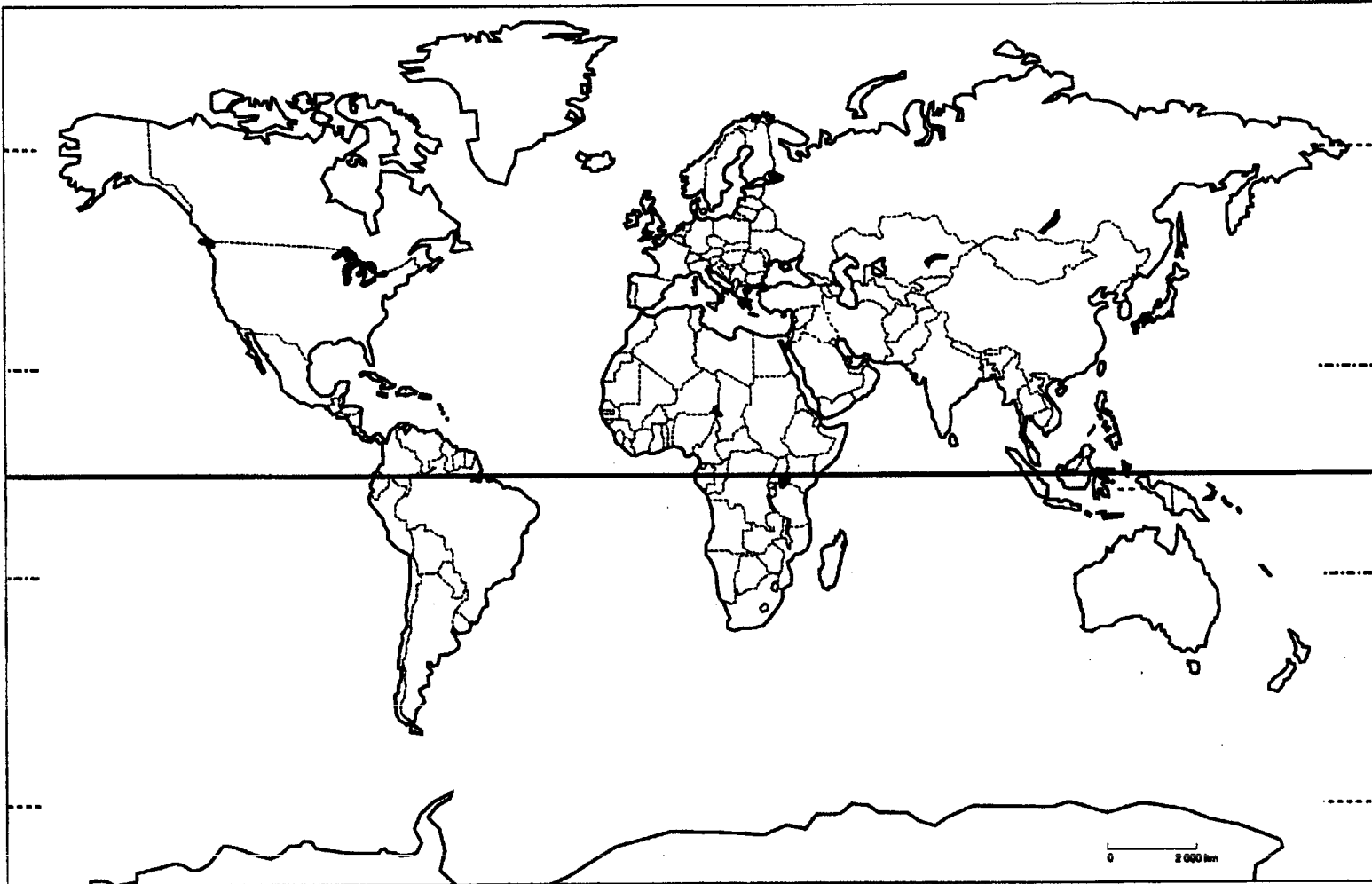


Départements français d'Outre-mer



Titre :

Légende :



Titre :

Légende :

Sujet de brevet (sur 6 points).

. Repères spatiaux (3 points) :

- 1/ Quels sont les quatre pays de l'Union Européenne qui participent à la construction de l'avion Airbus A380 ?
- 2/ Dans quelle mer se trouvent les bateaux quittant Hambourg avec des éléments de l'avion ?
- 3/ Quel fleuve coule à Saint-Nazaire ? Quel autre fleuve français s'écoule entre Toulouse et Bordeaux ?
- 4/ Dans quel océan se jettent ces deux fleuves ?

.....

.....

.....

.....

.....

.....

.....

.....

.....

.....

. Repères chronologiques (3 points) :

- 1/ Donnez le nom et la date de signature de l'accord qui a créé la Communauté Économique Européenne (CEE).
- 2/ Donnez le nom et la date de couronnement de l'empereur qui a unifié l'Europe au début du Moyen-Age.
- 3/ Quelle invention a marqué le début de "l'âge industriel" en Europe ? Quand ?

.....

.....

.....

.....

.....

.....

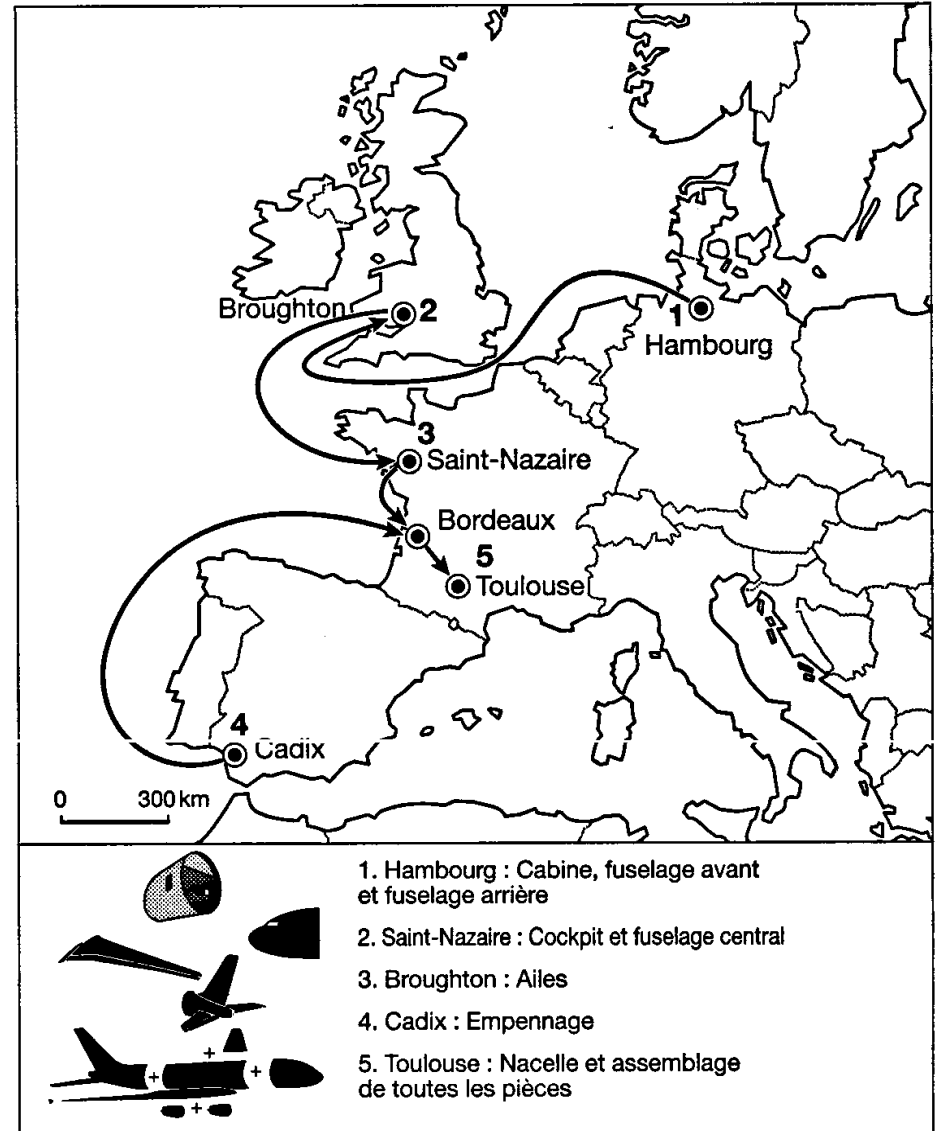
.....

.....

.....

.....

Les sites de production de l'Airbus A380



1. Hamburg : Cabine, fuselage avant et fuselage arrière
2. Saint-Nazaire : Cockpit et fuselage central
3. Broughton : Ailes
4. Cadix : Empennage
5. Toulouse : Nacelle et assemblage de toutes les pièces